



## ORIENTAČNÍ TEST 3. ROČNÍK A


1. Napiš názvy not v houslovém klíči.



2. Napiš názvy not v basovém klíči.



3. Spoj k sobě dynamický znaménka a jejich význam.



velmi silně  
zeslabovat  
středně silně  
velmi slabě  
silně  
slabě  
zesilovat  
středně slabě

4. Jaké předznamenání má stupnice E dur? Zakroužkuj.

- a) 2 křížky                      b) 3 křížky                      c) 4 křížky

5. Jaké předznamenání má stupnice D dur? Zakroužkuj.

- a) 2 křížky                      b) 3 křížky                      c) 4 křížky

6. Jaké předznamenání má stupnice A dur? Zakroužkuj.

- a) 2 křížky                      b) 3 křížky                      c) 4 křížky